

99 TEST

1198 SORU

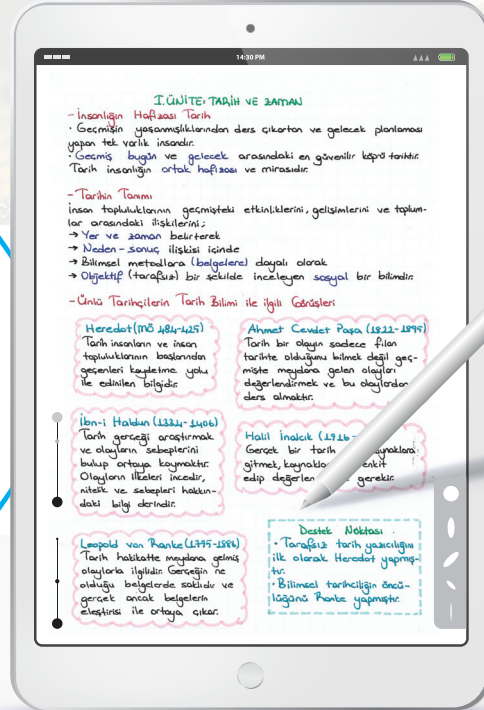
ÖĞRENMENİN EN KOLAY YOLU!

ENS Yayınları Destek Soru Bankaları konulardaki eksiklerinizi tamamlamak için size konu anlatımlı video desteği sunmaktadır. Destek testlerindeki soruların altındaki videoları uygulamadan izleyerek tüm TYT konularını yazarlarımızdan dinleme fırsatı bulabilirsiniz. Ayrıca yapamadığınız soruların video çözümlerini yine yazarlarımızın anlatımıyla dinleyebilirsiniz.



Google Play Store'dan ya da App Store'dan **ens** uygulamasını telefonunuza veya tabletlerinize indirin. Akıllı telefon ya da tablet kullanıyorsanız www.ensyayinlari.com.tr adresimizden **VİDEO KONU ANLATIMLARI**'na ve **VİDEO SORU ÇÖZÜMLERİ**'ne kolaylıkla ulaşabilirsiniz.

Uygulamayı kullanarak evde, okulda, otobüste kendinizi hazır hissettiğiniz her yerde **VİDEO KONU ANLATIMLARI**'nı ve **VİDEO SORU ÇÖZÜMLERİ**'ni izleyebilirsiniz. Her ünitenin başında videoların içerikleriyle ilgili yönerge verilmiştir. Bu yönergelerden hareketle istediğiniz konunun videosunu izleyebilirsiniz.



Copyright © Bu kitabın her hakkı saklıdır.

Hangi amaçla olursa olsun,
bu kitabın tamamının ya da bir kısmının,
kitabı yayımlayan yayınevinin önceden
izni olmaksızın elektronik, mekanik, fotokopi
ya da herhangi bir kayıt sistemi ile çoğaltılması,
yayımlanması ve depolanması yasaktır.

ISBN: 978-605-69528-3-8
1709 - 4 - 20



Sözel Branşlar Yayın Yönetmeni:

Mikail ÖZTAŞ

Yazarlar:

Yusuf DOLUAY - Haşim DURAK - Hüseyin KARA

Editör:

Nuri SOYUDURU

Dizgi:

ens Dizgi Grafik

Santral: **0850 302 2090**

ENS Yayınları: **0549 805 37 82**

Matbaa:



ensyayinlari@gmail.com



[ensyayinlari](https://www.instagram.com/ensyayinlari)



[Ens Yayınları](https://www.facebook.com/ensyayinlari)

SUNUŞ

Kıymetli Öğrencilerimiz,

Bu zamana kadar pek çok sınavda ter döktünüz, göz nuru döktünüz; bundan sonra da hayatınızda önem arz eden pek çok sınavla karşılaşacaksınız. Üniversite sınavı belki de bu sınavların en kapsamlısı ve yorucu olanıdır. Ülkemizde pek çok öğrencinin ana sorunu, üniversite sınavına hazırlık döneminde “temel eksikliği”dir. **ENS Yayınları** olarak bu eksiği gidermek amacıyla hazırladığımız “**DESTEK SERİSİ TARİH SORU BANKASI**” nı sizlere ulaştırmanın sevincini yaşıyoruz. İnsanı sınavlardan çok bilmediklerinin korkuttuğunu, hayatın kendisinin de bir sınav olduğu gerçeğini göz ardı etmeden söyleyebiliriz.

ENS Yayınları Destek serisinin her bir ürünü, öğrenilemeyen ya da eksik öğrenme neticesinde unutilan, yani bilinmeyen konulara ışık tutmak, bu konularla ilgili kalıcı öğrenme sağlamak amacıyla hazırlanmıştır.

ENS Yayınları Destek Soru Bankası serisinin bir parçası olan video konu anlatımları Destek Soru Bankası’ndaki sorularla örtüşmekte, konu sıralamasına göre düzenlenen sorular, video desteği ile kademeli olarak kavratılmakta ve pekiştirilmektedir.

Ustabaşı olmanın yolu pratik yapmaktan geçmektedir. Çoğu öğrenci önceki dönemlerde aynı konunun işlendiğini ancak unutulduğunu itiraf etmektedir. Kalıcı öğrenme, yaparak-yaşayarak öğrenmeden geçmektedir. Biz de kalıcı öğrenmeyi gerçekleştirmek amacıyla elektronik ortamda uzman öğretmenlerimizin sunumunda yapılan konu anlatımlarıyla aynı doğrultuda hazırladığımız Destek Soru Bankalarımızın ideal soru sayısı ile kalıcı öğrenmeyi gerçekleştireceğine inanıyoruz.

ENS Soru Bankalarındaki soruların tamamı kademeli ve kalıcı öğrenmeyi gerçekleştirecek biçimde hazırlanmıştır. Soruların video çözümleri, pratik çözüm teknikleri ve konu tekrar desteği ile kitabın yazarları tarafından yapılmıştır.

Bu kitabın hazırlanmasında emeği geçen yazarlarımız Yusuf DOLUAY, Haşim DURAK ve Hüseyin KARA’ya, Dizgi – Tasarım Uzmanımız Zeki ÇİRKİN’e ve editörümüz Nuri SOYUDURU’ya ve katkılarından dolayı Neslihan ÖMER’e sonsuz teşekkürlerimizi sunarız.

Unutmayın ki hayat mücadelelerle dolu ve uzun bir yolculuktur. Bu uzun yolculukta size DESTEK olmak bizim en büyük sevinç ve gurur kaynağımız olacaktır.

ENS YAYINLARI

İÇİNDEKİLER

1. ÜNİTE

TARİH ve ZAMAN 7

2. ÜNİTE

İNSANLIĞIN İLK DÖNEMLERİ 15

3. ÜNİTE

ORTA ÇAĞDA DÜNYA 23

4. ÜNİTE

İLK ve ORTA ÇAĞLARDA
TÜRK DÜNYASI 33

5. ÜNİTE

İSLAM MEDENİYETİNİN DOĞUŞU 41

6. ÜNİTE

TÜRKLERİN İSLAMİYETİ KABULÜ
ve İLK TÜRK İSLAM DEVLETLERİ 49

7. ÜNİTE

YERLEŞME ve DEVLETLEŞME
SÜRECİNDE SELÇUKLU TÜRKİYESİ 57

8. ÜNİTE

BEYLİKTEN DEVLETE
OSMANLI SİYASETİ 67

9. ÜNİTE

DEVLETLEŞME SÜRECİNDE
SAVAŞÇILAR ve ASKERLER 75

10. ÜNİTE

BEYLİKTEN DEVLETE
OSMANLI MEDENİYETİ 83

11. ÜNİTE

DÜNYA GÜCÜ OSMANLI
(1453-1595) 91

12. ÜNİTE

SULTAN VE OSMANLI
MERKEZ TEŞKİLATI 101

13. ÜNİTE

KLASİK ÇAĞDA OSMANLI
TOPLUM DÜZENİ 109

14. ÜNİTE

DEĞİŞEN DÜNYA DENGELERİ
KARŞISINDA OSMANLI SİYASETİ 115

15. ÜNİTE

DEĞİŞİM ÇAĞINDA AVRUPA
ve OSMANLI 123

16. ÜNİTE

ULUSLARARASI İLİŞKİLERDE
DENGE STRATEJİSİ 133

17. ÜNİTE

DEVRİMLER ÇAĞINDA DEĞİŞEN
DEVLET-TOPLUM İLİŞKİLERİ 141

18. ÜNİTE

XIX. ve XX. YÜZYILDA DEĞİŞEN
EKONOMİ ve GÜNDELİK HAYAT 149

19. ÜNİTE

XX. YÜZYIL BAŞLARINDA
OSMANLI DEVLETİ ve DÜNYA 157

20. ÜNİTE

MİLLÎ MÜCADELE 167

21. ÜNİTE

ATATÜRKÇÜLÜK ve TÜRK İNKILABI 175

22. ÜNİTE

İKİ SAVAŞ ARASINDAKİ DÖNEMDE
TÜRKİYE ve DÜNYA 183

23. ÜNİTE

II. DÜNYA SAVAŞI SÜRECİNDE TÜRKİYE
ve DÜNYA 193

24. ÜNİTE

II .DÜNYA SAVAŞI SONRASI
TOPLUMSAL DEVRİM ÇAĞINDA
TÜRKİYE ve DÜNYA 201

25. ÜNİTE

XXI. YÜZYILIN EŞİĞİNDE
TÜRKİYE ve DÜNYA 209

1.

ÜNİTE

TARİH VE ZAMAN

2.

ÜNİTE

İNSANLIĞIN İLK
DÖNEMLERİ

3.

ÜNİTE

ORTA ÇAĞDA DÜNYA

KONULAR

- Tarihin Konusu
- İnsanlığın İlk İzleri
- Orta Çağda Siyasi Yapılar



Soruları çözümeden önce bu testte yer alan sorularla ilgili **konu anlatım videolarını** izleyiniz. Videoların içerikleri aşağıdaki gibidir.

1. Bölüm Tarih ve Zaman

Destek 1 Sayfa 7

1. video: Tarih Biliminin Yöntemleri
2. video: Tarihin Konusu
3. video: Tarih ve Diğer Bilimler

4. video: İnsanlığın Hafızası ve Tarih
5. video: Takvim Sistemleri

2. Bölüm İnsanlığın İlk Dönemleri

Destek 1 Sayfa 15

1. video: İnsanlığın İlk İzleri
2. video: İlk Devletlerde Askeri-Ekonomik Yaşam
3. video: Sözlü Kültür

4. video: Tarih Öncesi Dönemlendirme
5. video: Kabileden Devlete
6. video: Yazının Gelişimi ve Bilim

3. Bölüm Orta Çağda Dünya

Destek 1 Sayfa 23

1. video: Orta Çağda Siyasi Yapılar
2. video: Tarımdan Ticarete Ekonomi
3. video: Kanunlar Gelişiyor

4. video: Orta Çağda Ticaret ve Ticaret Yolları
5. video: İlk ve Orta Çağda Toplumsal Tabakalaşma
6. video: Orta Çağda Ordu

1. Ailesiyle birlikte uzun süre Avusturya'da yaşayan Türkay, köyünü çok merak etmiş ve köyünde İlk Çağ'dan günümüze insanların ne ile geçindiğini araştırmaya karar vermiştir.

Buna göre Türkay,

- I. zamana göre,
II. mekana göre,
III. konuya göre

tarih sınıflandırmalarından hangilerini kullanmalıdır?

- A) Yalnız I B) Yalnız II C) I ve II
D) II ve III E) I, II ve III

1. VİDEO

2. İnkılap tarihi dersinde, sınıftaki öğrenciler, Osmanlı Devleti'nin Kuruluş Devri'nde cumhuriyeti ilan etmekle Türk halkına çok büyük bir kötülük yaptığını dile getirmişlerdir.

Tarih dersindeki öğrenciler tarihi bir olayı değerlendirirken aşağıdakilerden hangisine dikkat etmişlerdir?

- A) Osmanlının jeopolitik konumuna
B) Olayın incelendiği dönemin şartlarına
C) Türk siyasi birliğinin önemine
D) Olaylara objektif bakılmasının gereğine
E) Olayları sınıflandırmanın önemine

2. VİDEO

3. Tarihi olay ve olguları kronolojik bir süreçte ele almak bireylerde çok yönlü düşünmeye ve olaylardaki değişimi algılamaya yarar.

Bu bilgilere göre algılamayı sağlayan en önemli etken aşağıdakilerden hangisidir?

- A) Olaylara objektif bakış
B) Olaylar arasındaki sebep sonuç ilişkisi
C) Yer ve zaman belirleme
D) Tarihsel empati yapma
E) Millî bilinç oluşturma

2. VİDEO

4. Orhun Kitabeleri ilk defa 1826 yılında Danimarkalı W. Thomsen tarafından okunarak tüm dünyaya ilan edilmiştir. Kitabede Türklerin yaşantılarına, töresine ve kültürüne dair bilgiler dünyaya duyurulmuştur.

Kitabedeki bu bilgiler aşağıdaki tarihe yardımcı bilimlerden hangisinin alanına girmektedir?

- A) Filoloji B) Nüvizmatik C) Etnografya
D) Coğrafya E) Arkeoloji

3. VİDEO

5. Devletler resmî tarih kitaplarında millî birlik ve beraberliği kuvvetlendirmek için öğretici tarih anlayışına göre zaferlerini ön plana çıkarmışlardır.

Bu bilgilere göre öğretici tarih yazıcılığının hangi yönden eksik kaldığı söylenebilir?

- A) Yer ve zaman gösterme bakımından
B) Belgelere dayanma noktasında
C) Sebep sonuç ilişkisi kurma yönünden
D) Sosyal bilim olması bakımından
E) Objektif olma yönünden

4. VİDEO

6. Tarihte devletler, ihtiyaçlarına göre takvim yapmışlar ya da başka milletlerden almışlardır.

- I. Miladi Takvim
II. 12 Hayvanlı Türk Takvimi
III. Hicri Takvim

Yukarıda verilenlerden hangisi Türklerin başka medeniyetlerden alıp kullandıkları takvimlerdendir?

- A) Yalnız I B) Yalnız II C) I ve II
D) I ve III E) I, II ve III

5. VİDEO

7. Takvimlerin ortaya çıkmasında milletlerin ihtiyaçları, güneş ve ayın hareketleri önemli yer tutmuştur.

Aşağıdakilerden hangisi takvimin ortaya çıkış sebeplerinden biridir?

- A) Savaşlara yön vermek
- B) Kültürel etkileşimi sağlamak
- C) Zamanı kayıt altına almak
- D) Ticareti geliştirmek
- E) Eğitime önem vermek

5. VİDEO

8. Tarih ve takvim bilgisiyle ilgili olarak aşağıdakilerden hangisinin doğru olduğu söylenemez?

- A) M.Ö. tarihlerde sayıca büyük olan günümüze daha uzaktır.
- B) Miladi takvim Hz.İsa'nın doğumunu başlangıç alır.
- C) Miladi takvim, ay yılını esas alır.
- D) M.S. tarihlerde sayıca küçük olan daha eski zamanı gösterir.
- E) M.Ö. tarihlerde sayıca küçük olan günümüze daha yakındır.

5. VİDEO

9. Tarihi anlamak kadar, anlatmak da önemlidir. Bu bağlamda Türkiye'de birçok tarihçi bu manaya hizmet etmişler, bilgi ve belgelerle tarihi hakikatleri gün yüzüne çıkarmaya çalışmışlardır.

Aşağıdakilerden hangisi yakın bir dönemde "Tarihçilerin Kutbu" unvanı ile yukarıdaki ifadeye uygun tarihi aydınlatmada bulunmuştur?

- A) Halide Edip Adivar
- B) Namık Kemal
- C) Peyami Safa
- D) Halil İncılık
- E) Ahmet Cevdet Paşa

4. VİDEO

10. Tarihi kaynakları dil açısından inceleyen ve yorumlayan tarihe yardımcı bilim dalı aşağıdakilerden hangisidir?

- A) Filoloji
- B) Epigrafi
- C) Etnografya
- D) Coğrafya
- E) Arkeoloji

3. VİDEO

11. Tarihi olgular geneldir, sürekli ve soyuttur. Olayların sonucundan etkilenecek değişimlerdir.

Buna göre aşağıdakilerden hangisi tarihsel olguya örnek olarak gösterilebilir?

- A) Kurtuluş Savaşı
- B) Almut Kalesi'nin yıkılması
- C) Kıbrıs Barış Harekati
- D) Körfez Savaşı
- E) Milliyetçiliğin yayılması

2. VİDEO

12. Geçmişe bakmak ve geleceğe bir eser bırakmak insanlığın en önemli özelliğidir. Bunun içindir ki birçok krallar heykellerini; bazı firavunlar da anıtsal bir mezar olan piramitlerini bu duyguyla yaptırmışlardır.

Bu durum aşağıdaki bilimlerden hangisinin doğmasına neden olmuştur?

- A) Tarih
- B) Coğrafya
- C) Felsefe
- D) Matematik
- E) Sosyoloji

4. VİDEO

13. Tarih araştırmalarında kaynaklar çok önemlidir. Özellikle de birinci el kaynak denilen; olayın yaşandığı döneme ait olan eserler büyük önem arz eder.

Buna göre aşağıdakilerden hangisi birinci elden bir kaynak değildir?

- A) Hz. Ali'nin kılıcı
- B) Atatürk'ün saati
- C) Göbeklitepe tanıtım rehberi
- D) Ankara Kalesi
- E) Bandırma vapuru

1. VİDEO

1. İnsanlığın ortak hafızası olan tarih bilimi, geçmişte yaşamış insan veya insan topluluklarının her türlü faaliyetlerini tarafsız olarak belgeler ışığında, sebep sonuçları dikkate alarak inceleme yapar.

Buna göre tarih bilimi ile ilgili aşağıdakilerden hangisi söylenemez?

- A) Araştırma alanı geçmiştir.
B) Tarih biliminin elde ettiği bilgiler kesin ve değişmezdir.
C) Tarih bilimi, olayları tarafsız olarak inceler.
D) İnsanlığı ilgilendiren ve etkileyen tüm olaylar tarihin konusudur.
E) Olayın geçtiği zamanın şartları dikkate alınır.

2. Aşağıdakilerden hangisi tarih öğrenmenin insanlara sağladığı faydalardan biri olamaz?

- A) Geçmişteki olaylara bakarak gelecekle ilgili öngöründe bulunma
B) Geçmişte yapılan hataların tekrar edilmemesi
C) Tedavisi olmayan hastalıkların iyileşmesi
D) Geçmişteki başarılarla bakarak daha başarılı olma isteği uyandırması
E) Toplumların değişimini kavrayarak bugünü daha iyi anlama

3. Ders anlatan öğretmen bir yanardağ patlamasının tarihin konusu olamayacağını; ancak bu yanardağ patlamasının insanları etkilemesi durumunda tarihin konusu olabileceğini söyledi.

Öğretmenin söylediklerine göre bir olay ya da olgunun tarihin konusu olabilmesi için öncelikli şart aşağıdakilerden hangisidir?

- A) Dağlarla ilgili olması
B) Coğrafya ile ilgili olması
C) Çok eski zamanlarda yaşanması
D) İnsanlığı etkilemiş olması
E) İlginç özellikler taşıması

4. Olay; tarihte insanlığı etkileyen, kısa sürede meydana gelen gelişmelerdir. Olgular ise olayların ortaya çıkardığı sonuçlara göre uzun sürede meydana gelen değişimlerdir.

Bu bilgilere göre aşağıdakilerden hangisi olgu kavramına örnek olamaz?

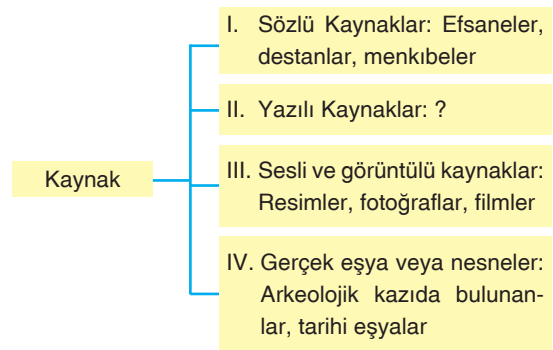
- A) Trafik kazası B) Göç C) Savaş
D) Antlaşma E) İstila

5. Tarihin konusu içerisinde yer alan olay ve olgular siyasi, askerî, ekonomik, dinî, sosyal ve kültürel gibi alanlara ayrılır.

Aşağıdakilerden hangisi askerî alana örnek olamaz?

- A) Attila'nın Bizans Seferi
B) Fatih'in İstanbul'u Fethi
C) Dandanakan Savaşı
D) Talas Savaşı
E) Kâğıt üretimi

6. Tarih biliminde bilgiyi ortaya çıkarmak için kullanılan malzemelere kaynak denir. Kaynaklar, malzemelerin yapısına göre dört grupta sınıflandırılır:



Yukarıdaki sınıflandırmada II no'lu alana örnek olarak aşağıdakilerden hangisi yazılamaz?

- A) Eski gazeteler
B) Antlaşma metinleri
C) Destanlar
D) Fermanlar
E) Kitabeler

7. Tarih bilimini fen bilimlerinden ayıran en büyük fark deney ve gözlem yapamamasıdır.

Deney ve gözlem yapamayan tarih bilimi bunun yerine aşağıdakilerden hangisini yapar?

- A) Geçmişten günümüze ulaşan kaynaklardan yararlanır.
B) Falcılardan yararlanır.
C) Duyduğu şeyleri yazar.
D) Elde ettiği bilgiye güvenemez.
E) Daha önce yazılanları aynen tekrar eder.

8. Beşeri bilimlerin çoğu, insanı veya doğayı tek bir yönü ile ele alırken, tarih bilimi, insanı her yönü ile anlamaya çalışır.

Buna göre tarih biliminin bu özelliği;

- I. tarih araştırmalarının zorlaşması,
II. diğer bilim dallarından yararlanması,
III. araştırma yapmanın imkânsız olması

durumlarından hangilerini ortaya çıkardığı söylenebilir?

- A) Yalnız I B) Yalnız II C) I ve II
D) I ve III E) I, II ve III

9. Paleografya; yazıları, alfabeleri ve bunların zaman içerisindeki değişimlerini inceleyen tarihe yardımcı bilimlerdenidir.

Buna göre aşağıdaki araştırmalardan hangisinde paleograflar görev almaz?

- A) Kadeş Antlaşması tabletinin incelenmesinde
B) Dinozor fosillerinin bulunduğu kazılarda
C) Orhun Kitabelerinin incelenmesinde
D) Sümerlerin kil tabletlerinin incelenmesinde
E) Asurluların Hititlerle imzaladığı ticaret antlaşmasının incelenmesinde

10. Mustafa Kemal'in isteği üzerine 1931'de Türk Tarihi Tetkik Cemiyeti, bugünkü adıyla Türk Tarih Kurumu kurulmuştur.

Mustafa Kemal'in bu isteğinin nedenleri arasında aşağıdakilerden hangisi yer almaz?

- A) Toplumda tarih bilinci oluşturmak.
B) Millet olma bilincini artırmak.
C) Türklerin geçmişteki başarılarından haberdar olmasını sağlamak.
D) Türklerin yayılma alanını genişletmek
E) Orta Asya'da Türk tarihinin bilinmeyenlerini araştırmak

11. Tarihî olaylar ele alınırken en önemli kural uzun yıllar önce yaşanmış bir olayın bugünün bakış açısı ve değer yargılarıyla ele alınmasının doğru olmayacağıdır.

Bu durumun temel nedeni aşağıdakilerden hangisidir?

- A) Kaynakların yetersizliği
B) Teknolojinin ilerlemesi
C) Okur-yazar oranının artması
D) O günün şartları ile bugünün şartlarının birbirinden farklı olması
E) Eski olayların yeni olaylarla aynı olması

12. Mısırlılar Nil Nehri'nin her bahar, yağmurlarla taşmasından şikayetçiydi. Çünkü ettikleri tohumlar sular altında kalıyordu. Bu nedenle taşkınların zamanını hesaplayabilmek için güneş yılı esaslı takvimi bulduklarını çok sonra fark ettiler.

Buna göre güneş yılı esaslı takvimin icadında;

- I. tarım,
II. askerî,
III. siyasi

kavramlarından hangileri etkili olmuştur?

- A) Yalnız I B) Yalnız III C) I ve II
D) I ve III E) I, II ve III

13. Türklerin tarih boyunca kullandığı aşağıdaki takvimlerin hangisinde kullanılış amaçları içerisinde din faktörü daha ağır basmaktadır?

- A) 12 Hayvanlı Türk Takvimi
B) Hicrî Takvim
C) Celali Takvim
D) Rumî Takvim
E) Miladi Takvim

1. **Öğretmen:** Tarih bir sosyal bilimdir. Sosyal bilimler fen bilimleri gibi kanunlar içermez; kesin ve değişmez kuralları yoktur. Zamanında doğru kabul edilen bilgiler değişebilir.

Öğrenci: O zaman tarihî bilgiler güvenilir değil midir öğretmenim?

Öğretmen: Güvenilirdir; ancak ----

Verilen diyalogda öğretmenin Ali'ye aşağıdaki cevaplardan hangisini vermesi beklenir?

- A) Tarafsız değildir.
B) Yeni bulgular sonucu değiştirilebilir.
C) Tarihin belirli bir konusu yoktur.
D) Tarih, geçmiş ile bugün arasında köprüdür.
E) Olayların tekrarlanması imkânsızdır.

2. Mustafa Kemal 15 Temmuz 1921'de düşman kuvvetlerinin Polatlı ilçesine yaklaşmasına rağmen Ankara'da Eğitim Kongresi düzenlemiştir. Kongrede tüm branş öğretmenlerine hitap ettikten sonra son tarih öğretmenlerine hitaben: "Değerli muallimler! Bu milletin evlatlarına tarih şuuru vermediğiniz her dakika, milleti uçurumun kenarına bir adım daha yaklaştırmış olursunuz." demiştir.

Mustafa Kemal'in bu sözleri üzerine aşağıdaki yargılardan hangisine ulaşamaz?

- A) Eğitimin en önemli kısımlarından biri tarih eğitimidir.
B) Tarih bilmeyen milletler yok olmaya mahkumdur.
C) Tarihten başka bilimler gereksizdir.
D) Milletleri millet yapan ortak hafıza tarihtir.
E) Her millet geçmişini bilmelidir ki geleceğe güvenle baksın.

3. Tarihin konusu insana ait ve insanı ilgilendiren olay ve olgulardır.

Buna göre aşağıdakilerden hangisi tarihin konusu olamaz?

- A) Malazgirt Savaşı
B) II. Dünya Savaşı
C) Kavimler Göçü
D) Yeraltı su kaynakları
E) Haçlı Seferleri

4. Tarih bilimi çok geniş kapsamlı bir alanda inceleme yapmaktadır. İnsana ait her türlü faaliyetler tarihin konusu olabilmektedir.

Buna göre tarih araştırmaları için aşağıdakilerden hangisi söylenemez?

- A) Herhangi bir araştırma yapmamak en iyi yöntemdir.
B) Tarih araştırmaları zor bir süreçtir.
C) Tarihi bilgiye ulaşmak için diğer bilim dallarından yardım alınır.
D) Toplumların tarihinde ekonomi, din gibi unsurlar tarihin araştırma alanına girer.
E) Tarihî bilgiye ulaşmada belgeler önemlidir.

5. Tarih bilimi, insana ait çeşitli faaliyet alanları ile ilgili araştırma yapar.

Aşağıdakilerden hangisi tarih biliminin siyasi alanda yaptığı araştırmalara örnek olamaz?

- A) Sevr Antlaşması
B) Karlofça Antlaşması
C) Lozan Konferansı
D) Montrö Boğazlar Sözleşmesi
E) Babil Kulesi

6. Olay kısa sürede meydana gelen gelişmelerdir. Olgu ise olayların ortaya çıkardığı sonuçlara göre uzun sürede meydana gelen değişimler ve olayların ortak özellikleridir. Örnek olarak savaş olgudur; Malazgirt Savaşı olaydır.

Paragrafta verilen bilgilere bakarak aşağıdakilerden hangisinin olgu olmadığı söylenemez?

- A) Mete Han'ın Çin Seferi
B) Göç
C) Antlaşma
D) Savaş
E) İcat

7. İnsan, sahip olduğu her şeyi ölçmek ister.
Buna göre takvim ile ilgili aşağıdakilerden hangisi söylenemez?

- A) Düzenli, sistemli bir kavramdır.
- B) Dönemlendirme yapmayı sağlar.
- C) Üretim faaliyetleriyle sınırlıdır.
- D) Gündelik hayata katkı sağlar.
- E) Soyut olan zamanı ölçmeye yarar.

8. Tarih bilinmeyi ortaya çıkarmak için kaynaklardan yararlanmak zorundadır. Eğer bir gün zaman makinası yapılırsa kaynaklara gerek kalmaz

Bu bilgiye göre aşağıdakilerden hangisinin tarih bilimciler için kaynak olabileceği söylenebilir?

- A) Meteor taşları
- B) Mağara duvarlarına yapılan resimler
- C) Akarsular tarafından oluşturulan delta ovaları
- D) Jeotermal su kaynakları
- E) Ormanlarda yaşayan hayvanlar

9. **Bilgi:** Yazılı olmayan ve bugüne kadar kulaktan kulağa aktarılan kaynaklara sözlü kaynaklar denir.

Durum: Türklerde Orta Asya'da konar-göçer hayat sürdürüklerinden yazılı kültürün yerine sözlü kültür gelişmiştir.

Yukarıdaki bilgi ve durum birlikte değerlendirildiğinde hangisinin araştırılmasında sözlü kaynaklardan daha çok yararlanılır?

- A) 12 Levha Kanunları
- B) Kadeş Antlaşması
- C) Mısır Piramitleri
- D) Eski Türk hukuk sistemi "Töre"
- E) Roma Cumhuriyet Dönemi

10. Arkeoloji, kazı bilimidir.

Buna göre aşağıdaki olayların hangisinde arkeolojiden yararlanılmaz?

- A) Hititlerin başkenti Hattuşaş'ta yapılan incelemeler
- B) Van'da bulunan antik kent Tuşpa araştırmaları
- C) Orta Asya'da Pazırık mezarlarında yapılan araştırmalar
- D) Yanardağı külleri altında kalan Pompeo şehrindeki araştırmalar
- E) Lozan Barış Antlaşması kararları

11. Mustafa Kemal, Türk Tarih Kurumunu kurarken Türk toplumunun birbirine olan bağlılığının artırılmasını amaçlamıştır.

Buna göre, tarih biliminin aşağıdaki özelliklerinden hangisi Mustafa Kemal tarafından dikkate alınmıştır?

- A) Tarih, toplumlara millet olma şuuru kazandırır.
- B) Tarih belgelere dayalı inceleme yapar.
- C) Tarih bilimi objektiftir.
- D) Tarih bilimi olayların yerini ve zamanını gösterir.
- E) Tarih, olayları neden sonuç ilişkisi içinde inceler.

12. Türk Devletleri, vergi toplama tarihlerini göz önünde bulundurarak takvimler hazırlamışlardır.

Buna göre;

- I. Hicrî
- II. Rumî
- III. Celalî

takvimlerinden hangileri ekonomik özellik taşımaktadır?

- A) Yalnız I
- B) Yalnız II
- C) I ve II
- D) II ve III
- E) I, II ve III

13. Tarihlerin belirgin olmalarında en önemli etken ay, gün ve yılın açık olarak belirtilmesidir.

Aşağıda verilen tarihlerden hangisi diğerlerine göre daha belirgindir?

- A) XV. yüzyıl
- B) XI. yüzyılın ilk yarısı
- C) 1914-1918 I. Dünya Savaşı
- D) XX. yüzyılın ilk çeyreği
- E) XIX. yüzyılın son çeyreği

1. Bir bilginin tarihi bilgi niteliği taşımasında, aşağıdakilerden hangisinin etkili olduğu söylenemez?

- A) Belgelerle kanıtlanması
- B) Objektif olması
- C) Geçtiği yerin belirli olması
- D) Geçmişte yaşanmış olması
- E) Geleceği haber vermesi

2. Tarihin en önemli özelliklerinden biri de sosyal bir bilim olmasıdır.

Buna göre aşağıdakilerden hangisi tarih biliminin konusu olamaz?

- A) Savaşların insanlar üzerindeki etkisi
- B) Sanayileşmenin sonuçları
- C) Tarımın yerleşik yaşama etkileri
- D) Çernobil faciasının doğaya etkileri
- E) Göçlerin kültürlere etkileri

3. Tarih demek geçmişin ayak izlerini takip etmek, tozlu sayfalarını aralamak, olayların sebep ve sonuçlarını öğrenmek ve geleceğe ışık tutmaktır.

Buna göre aşağıdakilerden hangisi tarih biliminin sağladığı faydalardan biri değildir?

- A) Geçmişin gün yüzüne çıkarılması
- B) Doğa olaylarının anlaşılması
- C) Uygarlıkların bilinmesi
- D) Savaşların sebep sonuçlarının anlaşılması
- E) Yaşanan olaylardan ders çıkarılması

4. Vesikalar, geçmiş hakkında tarihî şahitlerdir. Genellikle de yazılı olarak günümüze kadar gelmiştir.

Buna göre aşağıdakilerden hangisi yazılı bir vesika değildir?

- A) Fermanlar
- B) Kil tabletler
- C) Yıllıklar
- D) Kitabeler
- E) Çömlekler

5. Tarımın başlamasıyla insan hayatında önemli değişiklikler yaşanmıştır.

Aşağıdakilerden hangisi bu değişikliklerden birisi değildir?

- A) Yerleşik yaşama geçilmiştir.
- B) Evler yapılmıştır.
- C) Hayvanlar evcilleştirilmiştir.
- D) Avcılık ve toplayıcılıktan vazgeçilmiştir.
- E) Köyler kurulmuştur.

6. Yerleşik hayata geçmeden önce insanların sık sık yer değiştirdiğine dair önemli bulgulara rastlanmıştır.

Buna göre insanların yer değiştirmesinde,

- I. büyük devletler kurma,
- II. yeni yerler keşfetme,
- III. yeni besin kaynaklarına ulaşma

amaçlarından hangileri etkili olmuştur?

- A) Yalnız I
- B) Yalnız II
- C) Yalnız III
- D) II ve III
- E) I, II ve III

7. Madenin şekillendirilmesi için insanlar yüksek ısıya ihtiyaç duymuşlardır.

Bu bilgiden hareketle Maden Devri'ne geçişi kolaylaştıran ve hızlandıran en önemli yenilik aşağıdakilerden hangisidir?

- A) Köy yerleşiminin oluşması
- B) Hayvanların evcilleştirilmesi
- C) Yazının bulunması
- D) Takvimin kullanılması
- E) Ateşin kullanılması

8. Tarihte bir olayın araştırılmasında güvenilir birden çok kaynağa başvurmak, objektif bir araştırmanın yapılmasında büyük önem taşımaktadır.

Buna göre aşağıdaki kaynaklardan hangisi bir araştırmanın yapılmasında güvenilirliği diğerlerine göre daha azdır?

- A) Tarihi destanlar
- B) Antlaşma metinleri
- C) Diplomatik yazışmalar
- D) Orhun Kitabeleri
- E) Kil tabletler

9. Tarihin ve tarihî olayların daha iyi anlaşılması için tarih, zaman, mekân ve konu bakımından sınıflandırılmıştır.

Aşağıdakilerden hangisi zamana göre sınıflandırılmamıştır?

- A) Avrupa Tarihi B) Lale Devri
C) Osmanlı Kuruluş Devri D) Orta Çağ
E) Tunç Devri

10. Orta Asya'da Esik Kurganı'nda yapılan kazılarda Türk kültürüne ait önemli bulgulara rastlanmıştır.

Bu araştırmada,

- I. etnografya,
II. nümizmatik,
III. arkeoloji

bilimlerinin hangilerinden faydalanılmıştır?

- A) Yalnız I B) Yalnız II C) I ve II
D) I ve III E) II ve III

11. "Prehistorik" denilen tarih öncesi devirler aşağıdaki tarihe yardımcı bilimlerin hangisi aracılığıyla aydınlatılır?

- A) Diplomasi B) Arkeoloji C) Heraldik
D) Paleografya E) Epigrafya

12. Zaman içinde yaşayan ancak zamanı durduramayan insan, zamanı kayıt altına almak için aşağıdakilerden hangisini icat etmiştir?

- A) Takvim B) Kâğıt C) Yazı
D) Tekerlek E) Pusula

13. Olay : Kısa süreli ve net gelişmelerdir.

Olgu: Olayın sonucuna bağlı, uzun süreli gelişmelerdir.

Bu bilgilere göre aşağıdakilerden hangisi "olgu"ya örnektir?

- A) Ankara Savaşı
B) Yeniçeri Ocağının kaldırılması
C) Orta Asya'nın Müslümanlaşması
D) Kadeş Antlaşması
E) Mısır'ın Fethi

14. Atatürk, tarih bilimine ayrı bir önem vermiştir.

Aşağıdakilerden hangisi Atatürk'ün tarihe verdiği önemin göstergesidir?

- A) Eğitim Kongresinin düzenlenmesi
B) Hukuk Mektebinin açılması
C) Türk Tarih Kurumunun kurulması
D) Türk Dil Kurumunun kurulması
E) Etnografya Müzesinin açılması

15. Ay yılına göre hazırlanan bu takvimde 1 yıl 354 gün olup, 1 gün ise 24 saat 55 dakikadır. Aylar ise sabit değildir. Günümüzde dinî günlerin belirlenmesinde ve namaz saatlerinin hesaplanmasında kullanılmaktadır.

Yukarıda özellikleri verilen takvim aşağıdakilerden hangisidir?

- A) Rumi B) Miladi C) Celali
D) 12 Hayvanlı E) Hicri

1. "Bereketli Hilal" denilen Anadolu ve Mezopotamya'da iklimin ve coğrafi şartların yaşama elverişli olma özelliği birçok ilklerin de burada ortaya çıkmasına sebep olmuştur.

Aşağıdakilerden hangisi bu ilklerden birisi değildir?

- A) İlk şehir devletlerinin kurulması
B) Ay takviminin icat edilmesi
C) Paranın icat edilmesi
D) Karum denilen pazarların kurulması
E) Mumya tekniğinin bulunması

1. VİDEO

2. Milattan 12 bin yıl önce, buzulların erimesiyle Kuzey Yarım Küre'de insan yerleşimine ait ilk kalıntılara rastlanmıştır.

Kuzey Yarım Küre'de ilk insan izlerine rastlanılmasının sebebi aşağıdakilerden hangisidir?

- A) Çok geniş alanlara sahip olması
B) Nüfusun fazla olması
C) Hayvan nüfusunun fazla olması
D) Denizcilik faaliyetine uygun olması
E) İnsan yaşamına elverişli olması

1. VİDEO

3. Anadolu'da yapılan kazılarda çanak çömlek, öğütme taşları, havan ve dibekler bulunmuştur.

Bu bulgulara bakılarak aşağıdaki bilgilerden hangisine kesin olarak ulaşamaz?

- A) Henüz Maden Devri'ne geçilmediğine
B) Tarımsal ürünlerin kullanıldığına
C) Fırınlama tekniğinin kullanıldığına
D) Yerleşik yaşama geçildiğine
E) Taş Devri'nin yaşandığına

1. VİDEO

4. Bir bölgede kendi özgün yapısı dışında farklı bulgulara rastlanması, o bölgenin farklı milletlerle etkileşim içinde olduğunu gösterir.

Bu bilgiye göre aşağıdakilerden hangisi Kayseri-Kültepe bölgesinde yaşayan insanların farklı milletlerle etkileşim içinde olduğunu gösterir?

- A) Tarımsal ürünler
B) Çanak çömlekler
C) Köy yerleşimi
D) Kil tabletler
E) Tapınaklar

2. VİDEO

5. Yerleşik yaşamda tarımsal faaliyetle birlikte insanlar tükettiklerinden daha fazlasını üretmişlerdir.

Bu durum insanların ekonomik uğraşlarında aşağıdakilerden hangisini ortaya çıkarmıştır?

- A) Hayvancılık B) Ticaret C) Zanaat
D) Demircilik E) Dokumacılık

2. VİDEO

6. Mit, efsane ve destan gibi olaylar sözlü geleneğin bir ürünü olarak insanlık tarihinin aşağıdaki hangi kısmını oluşturmaktadır?

- A) Yazısız kısmını
B) Ticari kısmını
C) Görsel boyutunu
D) Kültürel kısmını
E) Abidevi kısmını

3. VİDEO

7. C. J. Thomson 1836 yılında Üç Çağ Sistemi'ni kurmuştur. Bu sistem sayesinde Taş ve Maden Devri sıralaması günümüze kadar gelmiştir.

Bu sistemdeki ayırım aşağıdakilerden hangisine göre yapılmıştır?

- A) Kullanılan araç gereçler
B) Kültürel öğeler
C) Sanatsal eserler
D) Ticari ilişkiler
E) Sportif faaliyetler

4. VİDEO

8. Roma Devleti'nde toplumsal sınıflardan olan Patriciler ile Pleblerin uzun süren mücadeleleri Pleblerin, Patriciler ile aynı haklara kavuşmasıyla son bulmuştur.

Aşağıdakilerden hangisi bu mücadelenin dünya uygarlık tarihine en önemli katkısı olmuştur?

- A) Askeri sistemin değişmesi
- B) Çağdaş hukuk sisteminin temellerinin atılması
- C) Şehir devletlerinin ortaya çıkması
- D) Jüljen Takvimi'nin oluşturulması
- E) Alfabeye son şeklinin verilmesi

5. VİDEO

9. İlk Çağ Anadolu uygarlıklarından olan Urartular, devletlerini eyaletlere bölmüşlerdir. Her eyaletin başına da merkezden bir vali atamışlardır. Sosyal alanda ise sulama kanalları ve barajlar yapmışlar, oda biçiminde yaptıkları mezarların içine ölen kişiye ait eşyalar koymuşlardır.

Yukarıda verilen bilgilere göre Urartular için aşağıdakilerin hangisini söylemek doğru olmaz?

- A) Ahiret inancı vardır.
- B) Tarıma dayalı bir ekonomileri vardır.
- C) Ticaretle uğraşmışlar, koloniler kurmuşlardır.
- D) Merkezi bir otorite kurmuşlardır.
- E) Tarımda verimi artırmaya yönelik çalışmalar yapmışlardır.

2. VİDEO

10. Friglerin en büyük tanrıları, toprak ve bereket tanrıçası olan "Kıbele" idi.

Frigler'de görülen bu inanışın ortaya çıkmasında aşağıdakilerden hangisi etkili olmuştur?

- A) Kendilerine ait yazı sisteminin olması
- B) Kralların ülkeyi tanrı adına idare etmeleri
- C) Diğer uygarlıkların inanışlarından etkilenmeleri
- D) Tarımla uğraşmaları
- E) Çok tanrılı bir din anlayışına sahip olmaları

2. VİDEO

11. Anadolu'da bilimsel faaliyetlerin gelişmesinde İyonyalıların çok büyük katkıları olmuştur.

İyonya'da bilimin gelişmesinde aşağıdakilerden hangisinin etkili olduğu söylenemez?

- A) Denizcilikle uğraşan İyon şehirlerinin zenginleşmesi
- B) Uygarlıkların kesişme noktasında bulunması
- C) Bilimle uğraşanların zenginler tarafından desteklenmesi
- D) Siyasi birliğin olmaması
- E) Özgür düşünce ortamının olması

6. VİDEO

12. **Yargı** : Tarih yazı ile başlar.

Durum : Anadolu'nun tarihî devirlere girmesi Mezopotamya ve Mısır'dan daha geç olmuştur.

Yukarıda verilen yargı ve durum karşılaştırıldığında aşağıdakilerden hangisine ulaşılabilir?

- A) Anadolu'da yazı, diğer iki uygarlıktan sonra kullanılmaya başlanılmıştır.
- B) Anadolu tarihî devirlere geçememiştir.
- C) Anadolu yazıyı Hititler sayesinde öğrenmiştir.
- D) Mezopotamya ve Mısır uygarlıkları her alanda ileri gitmişlerdir.
- E) Anadolu uygarlıkları ilk olarak Mısır yazısını kullanmışlardır.

6. VİDEO

13. Demokrasi, şehir devletlerinin kralını seçme şeklinde ilk defa Ege uygarlıklarında ortaya çıkmıştır.

Buna göre, ilk demokrasi uygulamaları aşağıdaki uygarlıkların hangisinde görülmüştür?

- A) Roma
- B) Mısır
- C) Lidya
- D) Yunanlılar
- E) Sümerler

5. VİDEO

1. Yeryüzünde insanlığın ilk dönemlerini o günden kalan ilkel araçlarla anlamaya çalışıyoruz. Başka çaremiz de yok. Yontulmuş bir taşa bakıp, av için ok ucuna takılan kemik parçasına bakıp bilgiye ulaşmak zorundayız. Tabii ki burada yalnız değiliz. Arkeologlar başta olmak üzere birçok yardımcımız vardır.

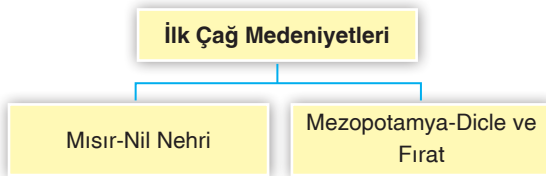
İnsanlığın ilk dönemlerinin araştırılmasının zorluğunun anlatıldığı paragrafta göre aşağıdakilerden hangisine ulaşamaz?

- A) İnsanlığın ilk dönemlerine ait bilgiler tamamen yanlıştır.
B) Yazının icadından önceki dönemlerin araştırılması zordur.
C) Tarihe yardımcı bilimler araştırmaları kolaylaştırmaktadır.
D) İnsanlar ilk yaşam dönemlerinde kemik ve taş gibi malzemelerden araçlar üretmişlerdir.
E) İnsanlar ilk dönemlerinde hayatta kalmak için avcılık yapmışlardır.

2. Tarih öncesi dönemlerde avcılık ve toplayıcılıktan tarıma geçen toplumların yaşamlarında aşağıdaki değişikliklerden hangisi meydana gelmiş olamaz?

- A) Toprağı ekip biçebilmek için yerleşik hayata geçmişlerdir.
B) Tek tanrılı inanç ortaya çıkmıştır.
C) Ürettikleri fazla ürünleri satabilmek için takas usulünü kullanmışlardır.
D) Tarıma uygun arazileri yerleşim yeri olarak kullanmışlardır.
E) Tarım aletleri yapmışlardır.

3.



İlk Çağ'da medeniyetin geliştiği iki önemli bölge ve eşleştirmelerine bakılarak iki medeniyetin ortak noktasının aşağıdakilerden hangisi olduğu söylenebilir?

- A) Aynı kültüre sahip oldukları
B) Kurak bölge olmaları
C) Zengin su kaynaklarına sahip olmaları
D) Yüksek dağların bulunması
E) Tarihî gelişimi aynı yaşadıkları

4. "UNESCO Dünya Mirası" listesine alınan Göbeklitepe, Şanlıurfa sınırlarında bulunmaktadır. Bu eski yerleşim alanında yapılan kazılarda günümüze kadar keşfedilen en erken tarihli dinî mimari yapılarına rastlanmıştır. Bu keşif ile yerleşik hayattan sonra tapınaklar yapıldığı tezi tartışılmaya başlanmıştır.

Paragrafta verilenlere bakılarak;

- I. Göçebe topluluklarda da ibadethane yapma geleneği vardır.
II. İnsanlar ilk defa Anadolu'da yerleşik hayata geçmişlerdir.
III. Anadolu çok eski uygarlıklara ev sahipliği yapmıştır.

yargılarından hangilerine ulaşılabilir?

- A) Yalnız I B) Yalnız III C) I ve II
D) I ve III E) I, II ve III

5. Yazının icadından önceki dönemlerde insanlar efsaneler, mitler, hikâyeler, destanlar ve diğer edebî türlerle bilgi ve tecrübelerini sonraki nesillere aktarmışlardır. Buna "sözlü kültür" denilmiştir.

Sözlü kültürün özellikleri arasında aşağıdakilerden hangisi yer almaz?

- A) Yazılı kültürdeki gibi bilim hızla ilerlemez.
B) Hukuk ilkeleri ve kanunlar yoktur.
C) Sözlü kanunlar vardır.
D) Destanlar, hikâyeler tarihsel konular içerir.
E) Göçebe topluluklarda sözlü kültür daha ağır basar.

6. İnsanlığın ilk dönemlerinde bir coğrafyada Taş Çağı yaşanırken, aşağıdakilerden hangisinin kullanılmaya başlanmasıyla bir sonraki çağa (Maden Çağı) geçilmiştir?

- A) Çanak-çömlek
B) Ateş
C) Bakır kaplar
D) Obsidyen taştan bıçak
E) Kemik uçlu oklar

7. Sümerlerde herkes elde ettiği ürünün bir kısmı, tanrının evine yani mabede teslim etmek zorundaydı. Ürünleri teslim alan rahipler bunları basit şekiller kullanarak kayıt altına almaktaydı. Böylece ilk piktografik (basit şekil yazısı) yazı bulunmuş oldu.

Buna göre yazının icadıyla ilgili aşağıdakilerden hangisi doğru değildir?

- A) Yazının ortaya çıkmasında din etkili olmuştur.
B) İlk yazı örnekleri ziraat kaynaklarıdır.
C) İlk ortaya çıkan yazı basit şekillerden oluşmaktadır.
D) Yazıyı ilk olarak Sümer rahipleri kullanmıştır.
E) Yazının kullanılmasıyla kâğıt bulunmuştur.

8. Yazının icat edilmesiyle insanların hayatında önemli değişiklikler meydana geldi.

Aşağıdakilerden hangisi meydana gelen bu değişimlerden biri değildir?

- A) Kütüphaneler yapılmaya başlandı.
B) Okuma-yazmanın öğretildiği eğitim kurumları ortaya çıktı.
C) Sözlü kültürler zayıfladı, yazılı kültürler yaygınlaştı.
D) İlk defa hayvanlar evcilleştirildi.
E) Hukuk kuralları yazılı hale gelmeye başladı.

9. Bilim, insanlığın ortak ürünüdür ve kökleri çok eski tarihlere kadar uzanır.

Buna göre aşağıdakilerden verilenlerden hangisi bilimsel gelişmelere örnek gösterilemez?

- A) İnsanların taşımacılık için tekerleği kullanmaya başlaması
B) Hititlerin çok tanrılı dine inanmaları
C) Sümerlerin Ay'ın hareketlerini gözlemleyerek takvimi geliştirmeleri
D) Mısırlıların mumyalama sayesinde tıpta ilerlemeleri
E) İyonların matematik ve felsefede ilerlemeleri

10. Mısır coğrafyası etrafı çöl ve deniz gibi doğal engellerle kaplı olduğundan komşu medeniyetlerle iletişimi zayıf olmuştur. Bu nedenle Mısırlılar kendi ihtiyacı olan gelişmeleri kendi icat etmiştir.

Paragrafta sözü edilen bu gelişmeler arasında;

- I. hiyeroglif(resim) alfabesi,
II. güneş yılı esaslı takvim,
III. tıp alanındaki gelişmeler

unsurlarından hangilerinin yer aldığı söylenebilir?

- A) Yalnız I B) Yalnız III C) I ve II
D) I ve III E) I, II ve III

11. Tarih boyunca birçok topluluk çeşitli nedenlerle buldukları yerden başka coğrafyalara göç etmişlerdir.

Aşağıdakilerden hangisi bu göçlerin sebeplerinden biri olamaz?

- A) Siyasi baskılar
B) Salgın hastalıkları
C) Turizm faaliyetleri
D) Kuraklık
E) Savaşlar

12. İlk Çağ'da Fenike, Asur gibi tüccar kâvimler başka yerlerde ticaret amaçlı yerleşimler (koloniler) kurarak bilim ve düşünce alanlarında gelişmeye katkı sağlamışlardır.

Aşağıdakilerden hangisi, paragrafta verilen bilgiye örnek olarak gösterilemez?

- A) Takvim
B) Alfabe
C) Matematik
D) Avcılık
E) Geometri

1. Yazının icadından önceki dönemde insanın hayat tarzı, avcılık ve besin toplayıcılığı şeklinde başlamıştır. Avlanmak ve tüketilebilen sebze, meyvelerin elde edilmesi için göç ederek hareket hâlinde kalmışlardır.

Buna göre yeryüzündeki ilk insanlarla ilgili aşağıdaki bilgilerden hangisi yanlıştır?

- A) Hayvanlar evcilleştirilmiştir.
B) Üretim yapmamaktadırlar.
C) Yerleşik hayata geçememişlerdir.
D) İnsanlığın yaşadığı en eski dönemdir.
E) Tüketici konumdadırlar.

2. İnsanlığın ilk dönemlerinde yerleşimler su kenarlarına, bitki örtüsü yoğun yerlere ve verimli arazilere yapılmıştır.

Bu durumun nedenleri arasında ;

- I. dönemin insanların avcılıkla uğraşması,
II. dönemin insanların tarımla uğraşması,
III. suyun insan hayatında çok büyük öneme sahip olması

unsurlarından hangilerinin yer aldığı söylenebilir?

- A) Yalnız I B) Yalnız III C) I ve II
D) I ve III E) I, II ve III

3. İnsanların yaptıkları ilk aletler sivri ve keskin taşlardır. Bunları avlanmada ve daha sonra tarımda kullanmışlardır. Bununla beraber kemik parçaları ve daha sonraları metal kullanmışlardır. Demirin bulunmasıyla medeniyet alanında ilerlemişler; yazının icadıyla gelişim hızlanmıştır.

Buna göre, insanlığın gelişimi için aşağıdakilerden hangisi söylenemez?

- A) Araç gereçler insanların yaşamını kolaylaştırmıştır.
B) İlk başlarda insanlar madenlerin varlığından habersizdir.
C) Demir, medeniyetin ilerlemesinde önemli olmuştur.
D) İnsanlar yazının icadı ile üretime geçmiştir.
E) İnsanların ihtiyaçları gelişimini belirlemiştir.

4. “UNESCO Dünya Mirası” listesine alınan Göbeklitepe; Şanlıurfa kent merkezinin 18 km kuzeydoğusunda yer alır. Günümüze kadar keşfedilen en erken tarihli dinî mimarinin içerisinde yer alan Göbeklitepe’de; taş aletler, heykeller ve bitki kalıntıları bulunmuştur.

Bu bilgilerden yola çıkarak aşağıdakilerden hangisine ulaşılamaz?

- A) Anadolu, dünyadaki ilk yerleşim yerlerini barındırır.
B) Göbeklitepe toplumunda ahiret inancı vardır.
C) Demirin işlenmesi burada keşfedilmiştir.
D) Göbeklitepe’de sanatsal yapılar mevcuttur.
E) Yazıdan önceki en eski döneme aittir.

5. Toplumlarda toplumsal hafıza denilen tarih bilinci sözlü ve yazılı şekilde aktarılmıştır.

Aşağıdakilerden hangisi yazılı kültür örneğidir?

- A) Destan B) Mağara resimleri
C) Hikâye D) Efsane
E) Para

6. Tarih öncesi dönemlendirilirken insanların kullandığı araç ve gereçler esas alınmıştır. Taş ve maden olarak ayrılan dönemlerde yaşam tarzları birbirinden farklıdır. Ancak yazının icadı ile dönemlendirme artık önemli olaylara göre yapılmıştır.

Yazının icadından önceki dönemlerin önemli olaylara göre yapılamamasının nedeni aşağıdakilerden hangisi olabilir?

- A) Yazı olmadan önemli olayların bilinmemesi
B) O dönemde önemli olay meydana gelmemesi
C) Çok fazla önemli olay olması
D) Çok fazla araştırma yapılmaması
E) Araştırmacıların yetersiz olması

7. Tarihin ve medeniyetin başladığı yerdir Mezopotamya. Geçim kaynağı tarım olan yerleşik Mezopotamya halkları yazıyı kullanarak tarihî devirleri başlatmışlardır.

Mezopotamya'da tarımla uğraşılmasında aşağıdakilerden hangisi etkili olmuştur?

- A) Çok tanrılı inanç sistemini benimsemeleri
B) Ticaretle uğraşmaları
C) Dicle ve Fırat gibi su kaynaklarına sahip olmaları
D) Hayvancılığı bilmemeleri
E) İstilaya açık olmaları

8.

I. Kayıt tutma ihtiyacı

II. Sembollerin kullanılması

III. ?

Tablodaki III numaralı alana aşağıdakilerden hangisinin gelmesi gerekir?

- A) Tekerleğin icadı
B) Yazının icadı
C) Atın evcilleştirilmesi
D) Takvimin icadı
E) Demirin işlenmesi

9. Sümerlerin kullandığı ilk yazılı kil tablet örneklerine Uruk kentinde rastlanmıştır. Ziggurat denilen tapınaklara ait bu tabletler, tahıl çuvalları ve büyük baş hayvan listelerinden oluşan tapınağın muhasebe kayıtları şeklindedir.

Buna göre yazının icadıyla ilgili aşağıdakilerden hangisi söylenemez?

- A) Yazı icat edildiğinde kâğıt kullanılmamaktadır.
B) Yazının icadında din etkili olmuştur.
C) Tarım ürünlerinin saklanması yazının icadında etkilidir.
D) Sümerler yazıyı diğer medeniyetlere öğretmemişlerdir.
E) İnsanlar sahip olduklarını kayıt altına alma ihtiyacı duyar.

10. Yazının icadı insan hayatına birçok yenilik katmıştır.

Aşağıdakilerden hangisi bunlardan biri değildir?

- A) Kütüphaneler B) Okullar C) Kitaplar
D) Yasalar E) İbadethaneler

11. İlk çağlardan beri insanlar; içinde yaşadığı doğayı, doğa varlıklarını ve olaylarını gözlemleme ihtiyacı duymuştur. İnsandaki merak duygusu ile yapılan araştırmalar ----

Paragraf sonundaki cümlenin devamı aşağıdakilerden hangisi olmalıdır?

- A) Bilimin ilerlemesine neden olmuştur.
B) İnsanların gelişimini durdurmuştur.
C) Üretim faaliyetlerini yavaşlatmıştır.
D) İnanç kavramını zayıflatmıştır.
E) Savaşların çıkmasına neden olmuştur.

12. Sümerlerdeki "ziggurat" denilen tapınakların en alt katı tahıl ambarı, giriş katı ibadethane, bir üst katı okul ve en üst katı da gözlemevi olarak kullanılmıştır. Yazının icadı ve ay yılı esaslı takvim zigguratlardaki faaliyetlerin ürünüdür.

Buna göre zigguratlarda aşağıdaki faaliyetlerden hangisinin yapıldığı söylenemez?

- A) Eğitim B) Bilim C) Spor
D) İbadet E) Depolama

13. Mısır medeniyetinde Nil Nehri'nin taşması güneş yılı esaslı takvimin icadına ve geometrinin gelişmesine, mumyacılık tıp biliminin gelişmesine, anıt mezarların inşası da mimarinin gelişmesine neden olmuştur.

Buna göre medeniyetlerdeki gelişim ile ilgili aşağıdakilerden hangisi söylenemez?

- A) İhtiyaçlar icatları doğurur.
B) Var olan bilim dallarının her biri insanlığa fayda sağlamıştır.
C) İnsanların öğrendikleri doğa ile mücadelede fayda sağlamıştır.
D) Bilim sadece Mısır uygarlığında gelişmiştir.
E) Geometri gibi bilimler günlük hayatta insanlara yararlı olmuştur.